

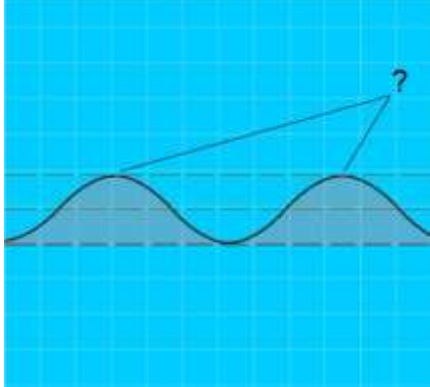
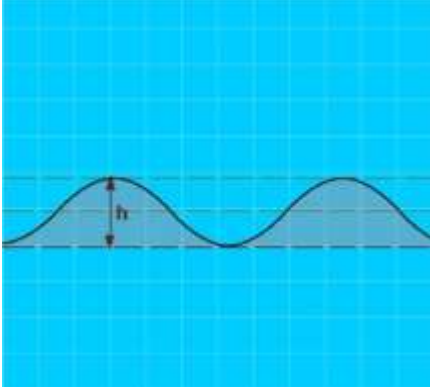


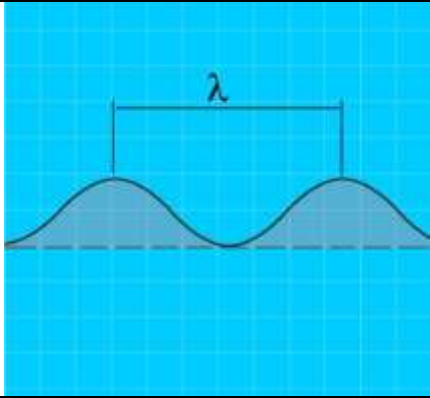
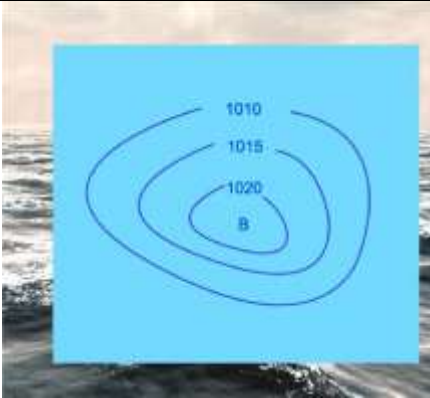








МП.3. Основы метеорологии в районе плавания




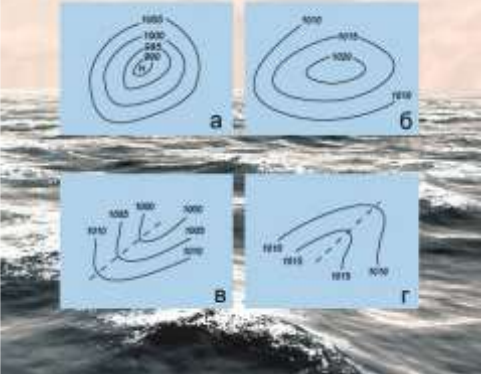

№	Вопрос	Иллюстрация
МП.3.1	Что измеряет барометр-анероид?	
МП.3.2	Что измеряется ручным анемометром?	
МП.3.3	Как называется наивысшая точка волнового профиля?	
МП.3.4	Как называется расстояние (h) от подошвы до гребня волны?	
МП.3.5	Как называется ветер, дующий в сторону берега?	






<p>МП.3.6</p>	<p>Как называется разновидность тумана при видимости от 1 до 10 км?</p>	
<p>МП.3.7</p>	<p>Как называется расстояние между гребнями или подошвами двух смежных волн?</p>	
<p>МП.3.8</p>	<p>Как называется область с повышенным давлением, которое понижается от центра к периферии?</p>	
<p>МП.3.9</p>	<p>Признаком какого изменения погоды является резкое падение атмосферного давления?</p>	



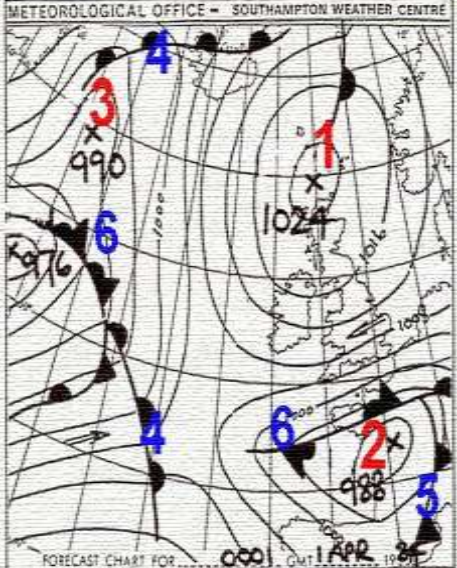

МП.3.10	Как называется явление скопления микроскопических капелек воды в нижних слоях атмосферы?	
МП.3.11	Как называется интенсивное (при забрызгивании) нарастание слоя льда на палубе, фальшборте, надстройках, рангоуте и палубных судовых устройствах?	
МП.3.12	Как называется прибор для наблюдения за изменениями атмосферного давления и графической записи показаний?	
МП.3.13	Какую погоду следует ожидать при резком падении атмосферного давления и появлении перисто-кучевых облаков?	
МП.3.14	Укажите единицу измерения силы ветра.	


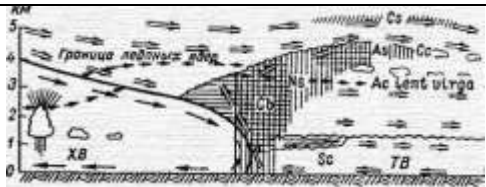



МП.3.15	Что означает выражение «Шторм 9 баллов»?	?
МП.3.16	Как называется ветер, при котором воздух перемещается с запада на восток?	?
МП.3.17	Какое название носят приливы, имеющие две полные и две малые воды в течение лунных суток?	?
МП.3.18	Какое название носят приливы, имеющие одну полную и одну малую воду в течение суток?	?

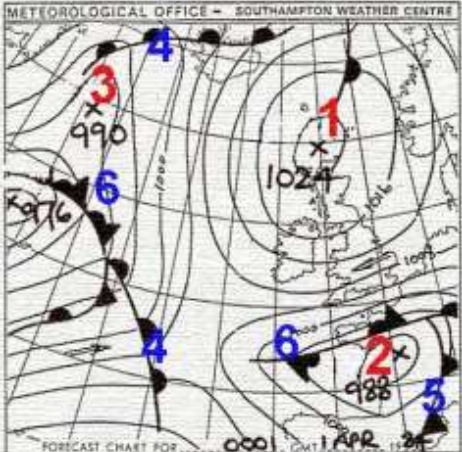
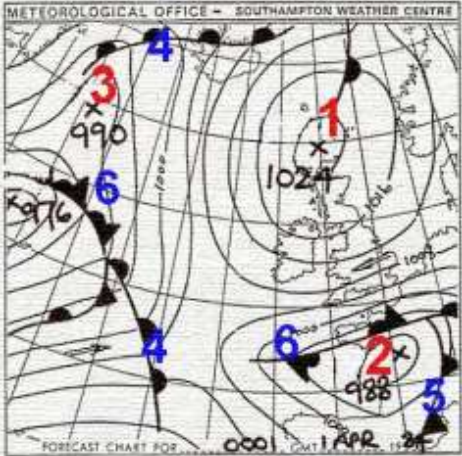
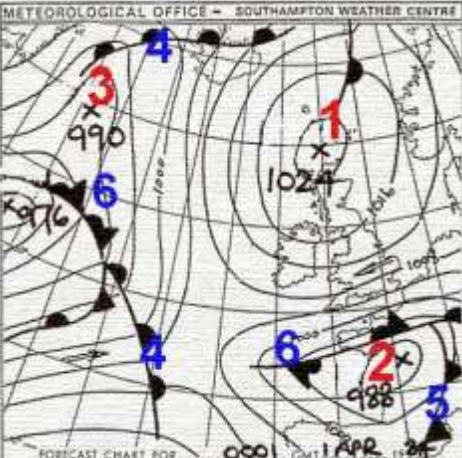

МП.3.19	Какое название носят приливы, которые наблюдаются в дни новолуния и полнолуния?	?
МП.3.20	Какое название носят приливы, которые наблюдаются в дни первой и последней четверти луны?	?
МП.3.21	Где будет находиться область высокого давления по отношению к человеку, стоящему спиной к ветру в северном полушарии?	?
МП.3.22	Как называется ветер, который дует днем с моря на сушу, а ночью с суши на море?	?



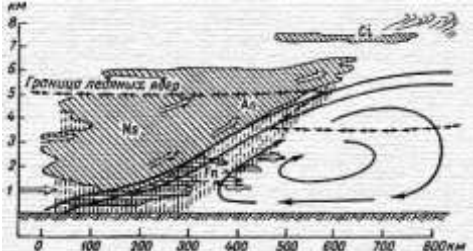
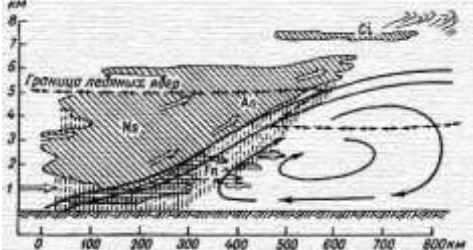
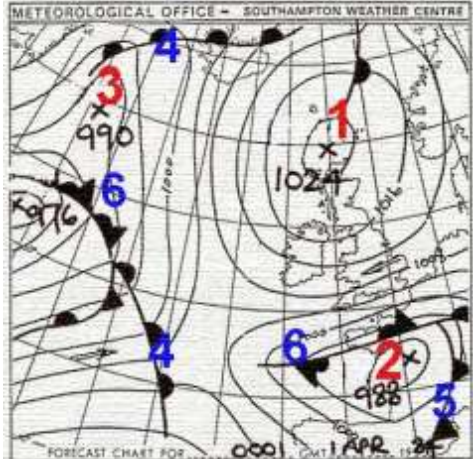

<p>МП.3.23</p>	<p>По какой шкале производится визуальная оценка силы ветра?</p>	
<p>МП.3.24</p>	<p>Что называется «Шкалой Бофорта» у мореплавателей?</p>	
<p>МП.3.25</p>	<p>В каком из вариантов ответа правильно названы формы барического рельефа на карте погоды?</p>	
<p>МП.3.26</p>	<p>В каком из вариантов ответа правильно перечислены наименования форм барического рельефа, изображаемых на синоптических картах?</p>	
<p>МП.3.27</p>	<p>Как называется уровень, относительно которого определены глубины, приведенные на навигационных картах?</p>	

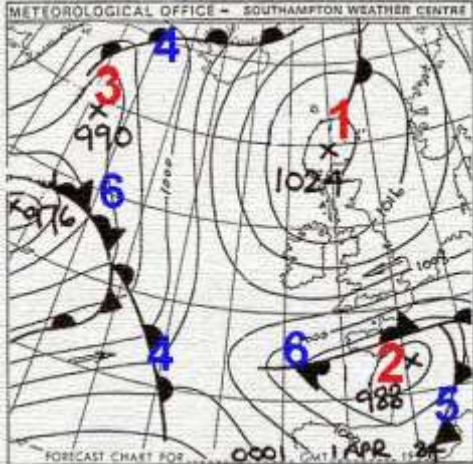


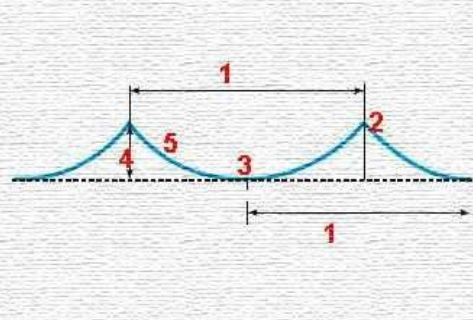
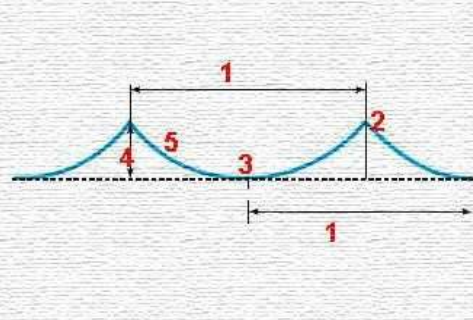
<p>МП.3.28</p>	<p>Как называется атмосферное явление, изображенное на рисунке?</p>	
<p>МП.3.29</p>	<p>Какое описание соответствует силе ветра «1 балл ТИХИЙ» по шкале Бофорта?</p>	
<p>МП.3.30</p>	<p>Фронтом окклюзии называется поверхность, которая ...</p>	
<p>МП.3.31</p>	<p>Как называется атмосферное явление, обозначаемое на картах погоды условным обозначением, показанным на рисунке?</p>	
<p>МП.3.32</p>	<p>Какое описание соответствует силе ветра «7 баллов КРЕПКИЙ» по шкале Бофорта?</p>	


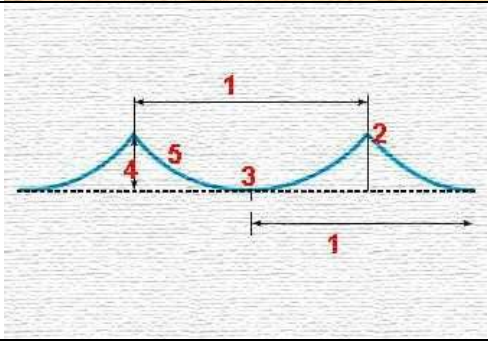

<p>МП.3.33</p>	<p>Какое описание соответствует силе ветра «0 баллов ШТИЛЬ» по шкале Бофорта?</p>	
<p>МП.3.34</p>	<p>Холодным фронтом называется поверхность, разделяющая теплую и холодную воздушные массы, которая ...</p>	
<p>МП.3.35</p>	<p>Как называется элемент барического рельефа, обозначенный на рисунке цифрой «1»?</p>	
<p>МП.3.36</p>	<p>Как называется атмосферное явление, обозначаемое на картах погоды условным обозначением, показанным на рисунке?</p>	

<p>МП.3.37</p>	<p>В каком направлении дует дневной бриз?</p>	
<p>МП.3.38</p>	<p>Отметьте утверждение, которое относится к изображению на рисунке</p>	
<p>МП.3.39</p>	<p>Отметьте утверждение, которое относится к изображению на рисунке</p>	
<p>МП.3.40</p>	<p>В каком направлении дует ночной бриз?</p>	
<p>МП.3.41</p>	<p>Какое описание соответствует силе ветра «2 балла ЛЕГКИЙ» по шкале Бофорта?</p>	

<p>МП.3.42</p>	<p>Как называется тип атмосферного фронта, обозначенный на рисунке цифрой «5»?</p>	
<p>МП.3.43</p>	<p>Как называется элемент барического рельефа, обозначенный на рисунке цифрой «2»?</p>	
<p>МП.3.44</p>	<p>Как называется тип атмосферного фронта, обозначенный на рисунке цифрой «4»?</p>	
<p>МП.3.45</p>	<p>Теплым фронтом называется поверхность, разделяющая теплую и холодную воздушные массы, которая ...</p>	

<p>МП.3.46</p>	<p>Как называется атмосферное явление, обозначаемое на картах погоды условным обозначением, показанным на рисунке</p>	
<p>МП.3.47</p>	<p>Что изображено на рисунке?</p>	
<p>МП.3.48</p>	<p>Отметьте утверждение, которое относится к изображению на рисунке</p>	
<p>МП.3.49</p>	<p>Отметьте утверждение, которое относится к изображению на рисунке</p>	
<p>МП.3.50</p>	<p>Как называется элемент барического рельефа, обозначенный на рисунке цифрой «3»?</p>	
<p>МП.3.51</p>	<p>Как называется атмосферное явление, обозначаемое на картах погоды условным обозначением, показанным на рисунке?</p>	

<p>МП.3.52</p>	<p>Как называется тип атмосферного фронта, обозначенный на рисунке цифрой «6»?</p>	
<p>МП.3.53</p>	<p>Какой тип волнения показан на рисунке?</p>	
<p>МП.3.54</p>	<p>Какой тип волнения показан на рисунке?</p>	
<p>МП.3.55</p>	<p>Как называется элемент волнения, обозначенный на рисунке цифрой «3»?</p>	
<p>МП.3.56</p>	<p>Как называется элемент волнения, обозначенный на рисунке цифрой «5»?</p>	

<p>МП.3.57</p>	<p>Какой тип волнения показан на рисунке?</p>	
<p>МП.3.58</p>	<p>Как называется элемент волнения, обозначенный на рисунке цифрой «4»?</p>	
<p>МП.3.59</p>	<p>Какова физическая причина возникновения приливо-отливных колебаний уровня моря?</p>	
<p>МП.3.60</p>	<p>Как называется элемент волнения, обозначенный на рисунке цифрой «1»?</p>	