





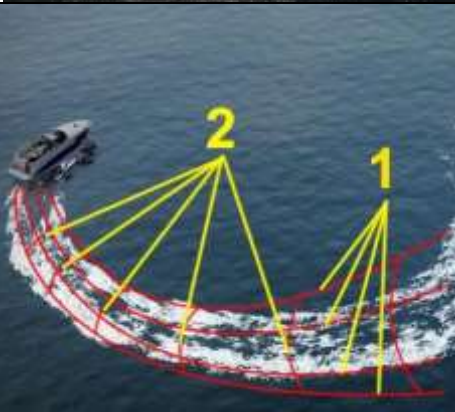
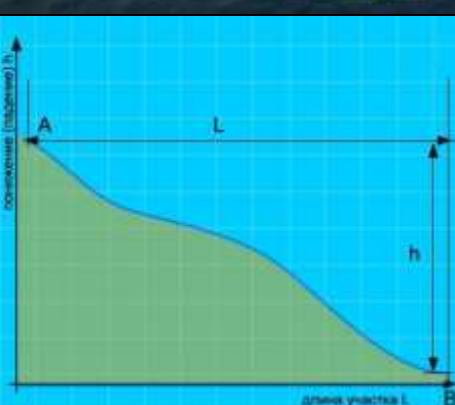






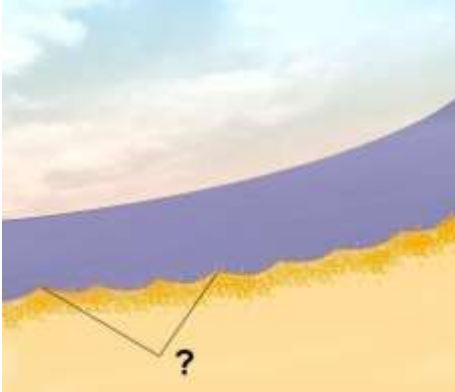








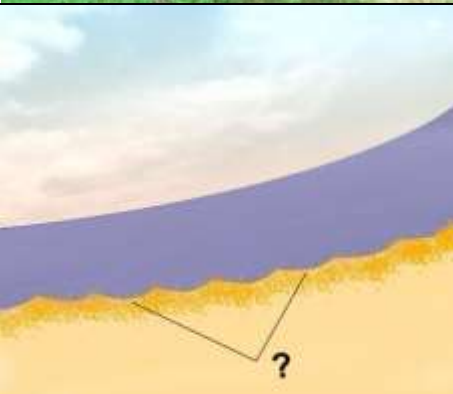

ВП.2. Основы навигации и радиосвязи в районе плавания






| № | Вопрос | Иллюстрация |
|--------|--|--|
| ВП.2.1 | Как называется место начала реки? |  |
| ВП.2.2 | Под каким номером на рисунке обозначен урез воды? |  |
| ВП.2.3 | Как называется невысокий обрывистый, как правило, вогнутый берег? |  |
| ВП.2.4 | Как называется крутой и короткий изгиб русла в пределах долины реки? |  |






| | | |
|---------------|---|--|
| <p>ВП.2.5</p> | <p>Как называется длинный изгиб русла вместе с долиной реки?</p> |  |
| <p>ВП.2.6</p> | <p>Как называется столкновение струй двух водных потоков (слияние рукавов)?</p> |  |
| <p>ВП.2.7</p> | <p>Как называются судовые волны, обозначенные на рисунке под номерами "1" и "2"?</p> |  |
| <p>ВП.2.8</p> | <p>Какая зависимость между продольным уклоном поверхности воды и скоростью течения воды в реке?</p> |  |

| | | |
|----------------|---|--|
| <p>ВП.2.9</p> | <p>Как называется течение, которое создается у берега на участках, где слив воды направлен к берегу, и вызывает раскат судов в сторону берега?</p> |  |
| <p>ВП.2.10</p> | <p>Как называется вращательное движение воды в реке, возникающее, как правило, за выступами берегов, мысами, выпуклыми берегами, мостовыми опорами, дамбами?</p> |  |
| <p>ВП.2.11</p> | <p>Как называется неправильное течение, которое представляет собой слив воды, направленный под углом к судовому ходу, и возникающее из-за разности в уровнях воды по ширине реки?</p> |  |
| <p>ВП.2.12</p> | <p>Как называется неправильное (беспорядочное) вращательное течение в реке, вызываемое либо столкновением струй двух водных потоков (спорными водами), либо наличием на дне реки крупных предметов?</p> |  |
| <p>ВП.2.13</p> | <p>Какой из этих изгибов реки называется "лука"?</p> |  |

| | | |
|----------------|--|--|
| <p>ВП.2.14</p> | <p>Как называется подводный глинистый выступ?</p> |  |
| <p>ВП.2.15</p> | <p>Как называется скопление наносов, отложенных в виде подводной гряды по ширине русла?</p> |  |
| <p>ВП.2.16</p> | <p>Как называется вращательное движение воды за подводным или надводным выступом?</p> |  |
| <p>ВП.2.17</p> | <p>Как называется наносное (без растительности) образование в русле, омываемое водой со всех сторон?</p> |  |
| <p>ВП.2.18</p> | <p>Как называется клиновидное отложение наносов, образованное у выпуклого берега и расположенное под углом к нему вниз по течению?</p> |  |

| | | |
|----------------|---|--|
| <p>ВП.2.19</p> | <p>Как называется песчаная отмель – бугор в русле реки?</p> |  |
| <p>ВП.2.20</p> | <p>Как называется одиночный камень больших размеров в русле реки?</p> |  |
| <p>ВП.2.21</p> | <p>Как называется небольшое обособленное скопление камней недалеко от берега?</p> |  |
| <p>ВП.2.22</p> | <p>Как называется глубоководный участок реки между двумя перекатами?</p> |  |
| <p>ВП.2.23</p> | <p>Как называется большое скопление камней в русле либо каменная коса?</p> |  |



| | | |
|----------------|--|--|
| <p>ВП.2.24</p> | <p>Как называется часть речной долины, затапливаемая при половодье (1 и 2)?</p> |  |
| <p>ВП.2.25</p> | <p>Как называется старое русло, спрямленное новым руслом и изолированное от него?</p> |  |
| <p>ВП.2.26</p> | <p>Как называется часть реки, которая образовалась при разделении русла островом?</p> |  |
| <p>ВП.2.27</p> | <p>Как называется течение из главного русла, направляющееся в боковые протоки у их входов?</p> |  |
| <p>ВП.2.28</p> | <p>Как называется выработанное речным потоком ложе, по которому осуществляется сток воды при самых низких уровнях?</p> |  |

| | | |
|----------------|--|--|
| <p>ВП.2.29</p> | <p>Как называется участок земной поверхности, ограничивающий долину реки с боков?</p> |  |
| <p>ВП.2.30</p> | <p>Как называется часть старого русла, соединенное с действующим?</p> |  |
| <p>ВП.2.31</p> | <p>Как называется условная линия, соединяющая на водной поверхности реки точки с наибольшей глубиной русла и максимальными скоростями течения?</p> |  |
| <p>ВП.2.32</p> | <p>Как называется водный поток, вливающийся в реку?</p> |  |
| <p>ВП.2.33</p> | <p>Как называется часть реки, образованная при разделении русла островом?</p> |  |

| | | |
|---------|---|---|
| ВП.2.34 | Как называется движение двух судов, двигающихся навстречу друг другу? |  |
| ВП.2.35 | Выберите правильное определение термина «пеленг» |  |
| ВП.2.36 | Как называется угол между северным направлением меридиана и диаметральной плоскостью судна по направлению его движения? |  |
| ВП.2.37 | Выберите правильное определение термина «курсовой угол» |  |

| | | |
|---------|--|---|
| ВП.2.38 | Для чего из перечисленного ниже используется магнитный компас? | ? |
| ВП.2.39 | Как называется угловая разница между направлением на истинный север и направлением на магнитный север? | ? |
| ВП.2.40 | Как называется отклонение стрелки компаса от магнитного севера под влиянием внешних магнитных полей? | ? |
| ВП.2.41 | Как называется направление на географический северный полюс? | ? |

| | | |
|---------|---|---|
| ВП.2.42 | Как называется угол между диаметральной плоскостью судна и направлением на истинный север? | ? |
| ВП.2.43 | Как называется угол между диаметральной плоскостью судна и направлением на магнитный север? | ? |
| ВП.2.44 | Как называется отклонение движущегося судна от курса под влиянием ветра? | ? |
| ВП.2.45 | Как называется отклонение движущегося судна от курса под влиянием течения? | ? |

| | | |
|---------|---|---|
| ВП.2.46 | Как называется местоположение судна, полученное путем обработки результатов визуальных наблюдений различных ориентиров, положение которых известно? |  |
| ВП.2.47 | Пеленг на какой из объектов необходимо взять в последнюю очередь при определении места судна? |  |